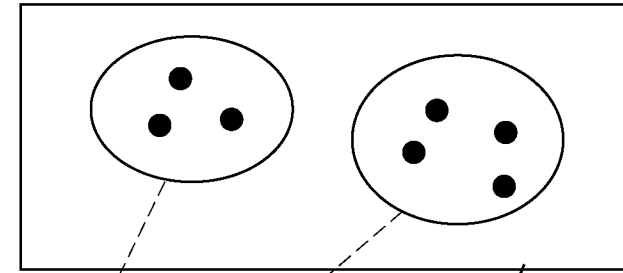


1) 集合図と数式を照らし合わせて計算をする。図の下の点(点)を数えればよい。
2) 3番目の問題は、自分で式を書いて計算する。

a) 多項の足し算
b) へつ図の算数的な展開。

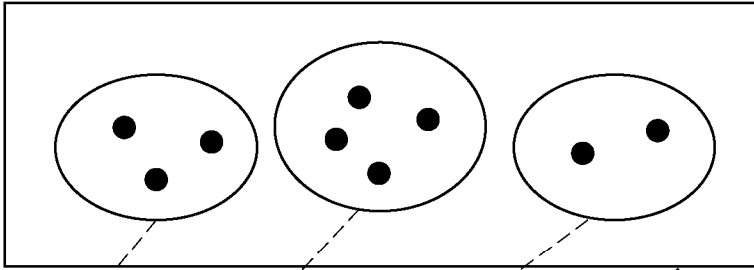
Date /
Note



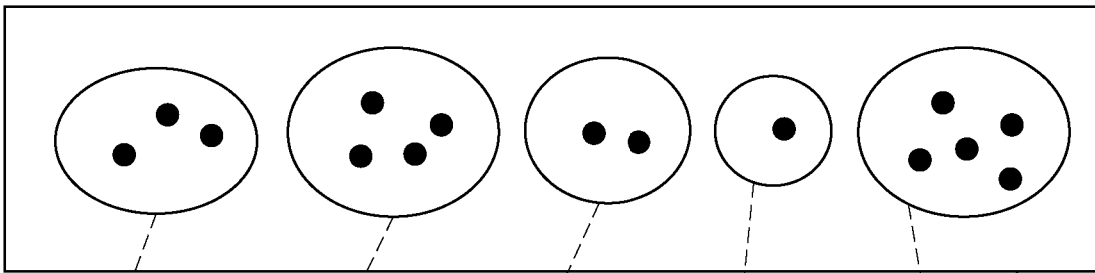
$$3 + 4 = \square$$



いくらでも たせるぞ!



$$3 + 4 + 2 = \square$$



しきを かいて けいさんしよう。

$$\square + \square + \square + \square + \square = \square$$