
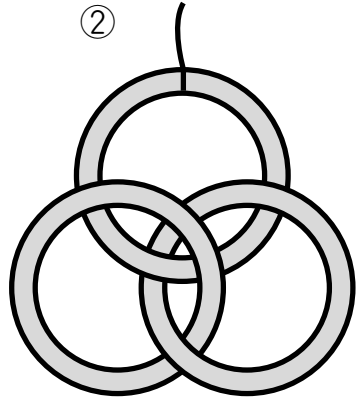



1) 上図のように連結したリングをひもを持って吊るすと下  
図のどれになるか、想像・推理させる。  
2) 上のリングは下のどれと同じか「の設問でもよい。  
3) 正答=1→3, 2→1, 3→2

a) 立体空間の動態認知。絵で示されたリングの結合関係  
を心的に動かして結果を推理する操作。

□  
評  
Date /  
Note /



おなじ リングは  
どれだ。

