














ひもクジで、パフェをあてたのはだれだ？



折り隠す



当たりくじはどのヒモ？  
順序(序数)と位置

2986 ©Adeamland

- 1) 折り線で折り隠しをして与える。
- 2) 上(パフェ)の面を見せ、ひっくり返して「ひもクジでパフェをあてたのはだれ？」と当てさせる。
- 3) 折りを開いてひもをたどらせ、当たりを確かめる。
- 4) 当たるまでやり、当たったら喜んでやること。

a) 位置関係を、何番目かのような順序数的発想でとらえるためのプリミティブな体験。

Date  
Note  
評