

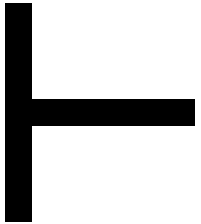

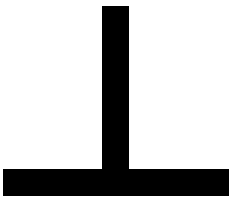
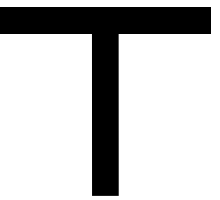




おなじ かたちは どれ？



1) 左の図形と同じものをマーク(円で囲むなど)。
2) 「逆さまになっている」「横になっている」「など回転による変化」に気付けばさらによい。

a) 線分図形の同定。文字や記号の習得の下位能力。
b) 同じという概念。
c) 回転＝平面空間における位置関係の知覚。

Date
Note
評

