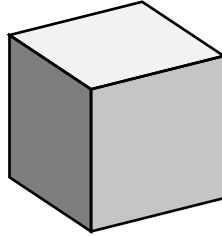


キューブの 数だけ ○ を ぬる。

①

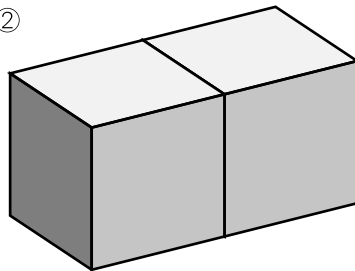


○ ○ ○ ○ ○



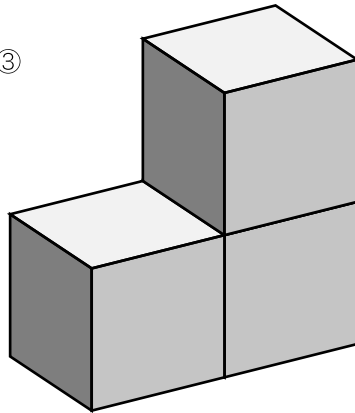
キューブは なんこ?

②



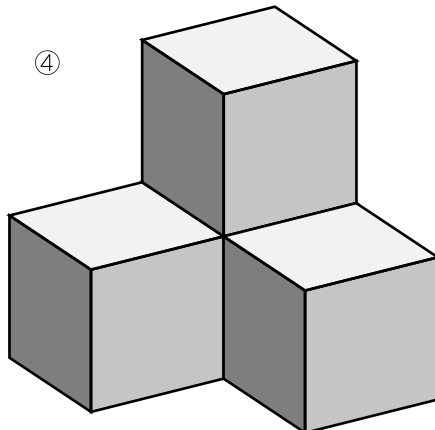
○ ○ ○ ○ ○

③



○ ○ ○ ○ ○

④



○ ○ ○ ○ ○