



評

Note /

Date








a ストリークに収まった二桁数のボジションの視覚的な取
り込み

b 二桁数を順序数として扱う体験

1 おやつでかくれた数字を に書
2 おおむしが数の順をたどっておやつを食べたとする
どのおやつを1番目に食べて2番目は...と順
番を数字で に書く

6146 © Adeamland
おやつの順序
順序数としての二桁数



10	20	30	40	50	60		80	90	100
9	19	29	39	49	59	69	79	89	99
8	18	28	38	48	58	68	78	88	98
7	17	27		47	57	67	77	87	97
6	16	26	36	46	56	66	76	86	96
5	15	25	35	45	55	65	75		95
	14	24	34	44	54	64	74	84	94
3	13	23	33	43	53	63	73	83	93
2	12	22	32		52	62	72	82	92
	11	21	31	41	51	61	71	81	

おやつで かくれた すうじは?



たべた じゅんばんは?