


1) 上の形と同じ形はどれか、回転を考えてマークする。
2) 困難な場合はトーンシフトマークを。
3) 正答 b,d,i

a) 二次元空間の回転マーク。図形の心的回転。


□ 評
Date / Note



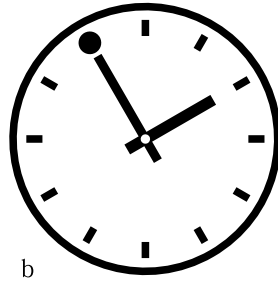
これとおなじものが
3つ あります。




どれでしょう。




a



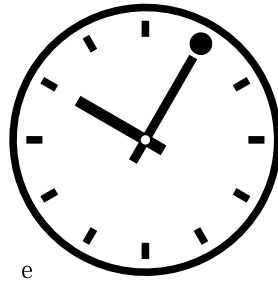
b




c




d



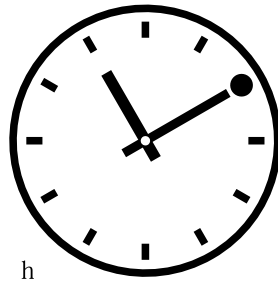
e




f



g



h



i