





1) ?のところには下のどれか1つを入れるのみ、形の配列から関係を類推して判断。必ず判断の根拠をたずねること。
2) 切っけ貼らせ、当否を確かめる。
3) 正答=4. その他の答でも理由に意味があれば受容し、その上で視点を変えて再考させる。

評
□
Date /
Note

			
---	---	---	---

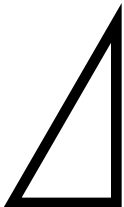
ここには どれを?



1



2




3



4



5



6

