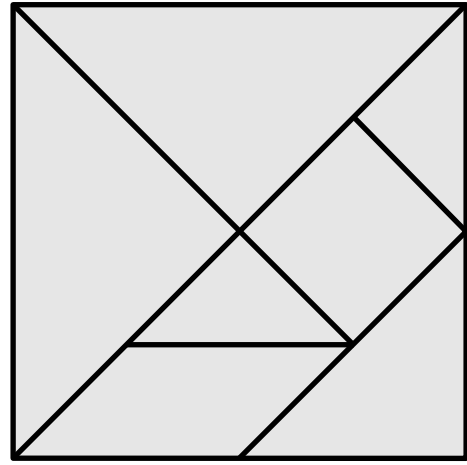

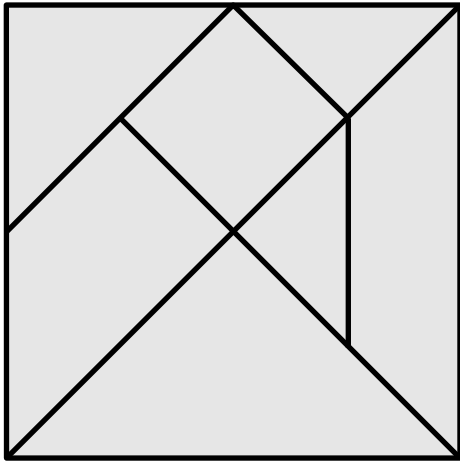


1) モデルの線分図形を方眼の線上に当てはめて模写する。
2) まず外郭の正方形を方眼上の4×4に書きかせること。

a) モデルの図形は有名な「スリ Chinese Tangram」の分割

Date /
Note

評



このかたちを、マスめにそってかきうつそう。