
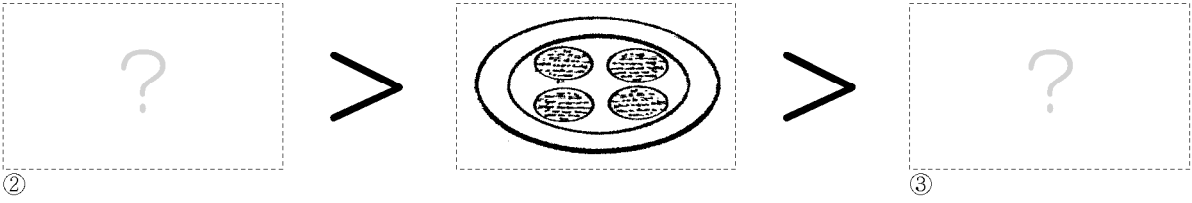



1) 限られた数の絵を用いて、不等号で結ばれた4連の全体が成り立つようにやりくりする。
2) 誤りがあれば、1つ1つ確かめると、試行錯誤の末でよいが、正誤を確かめて納得できることが大事。
3) 正答: ①から⑤の順に 2,5,3,4,1。

a) 限られた数牌を配置して三組の関係を構成する課題。
b) 二者の関係を考えよよりもはるかに複雑である。二者はリレーション、三者からはシステム。

Date /
Note /
評



どれが どこだ?

