



1) 上の線の○にそれぞれ色で印をつけてやる。  
2) 下の図形が、どれとどれが組み合わさって出来ているか  
を見分け、○にその印の色を塗る。

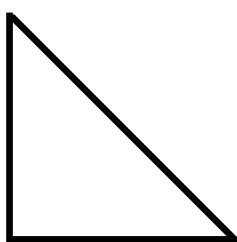
a) 図と地の弁別。  
b) 図形の分解と構成。  
c) タチ・ヨコ・ナナメの角度(向き)の認知




うえのかたちの、どれとどれでできているか、  
○にいろでしるしをつけよう。



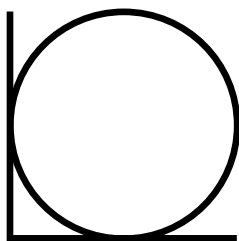
○ ○




○ ○



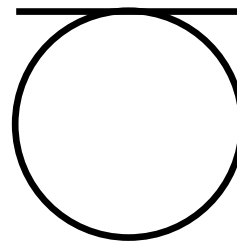
○ ○




○ ○



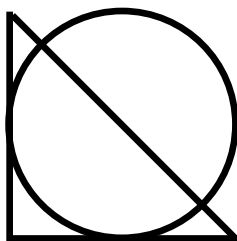
○ ○



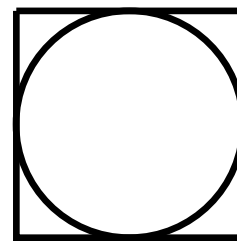
○ ○



○ ○ ○



○ ○ ○



○ ○ ○