
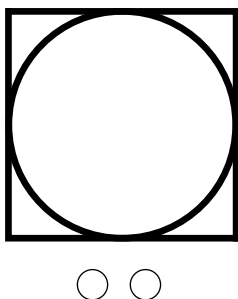



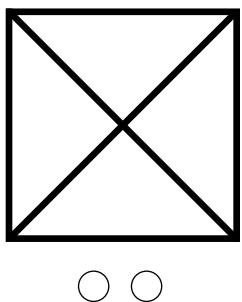


うえの かたちの どれと どれで できている？



- 1) 上の線の○にそれぞれ色で印がついている。
- 2) 下の図形が、どれとどれが組み合わさって出来ているかを見分け、○にその印の色を塗る。

- a) 図と地の弁別。
- b) 図形の分解と構成。
- c) タテ・ヨコ・ナメの角度(向き)の認知覚。

特定用具: 不要

Date:

