







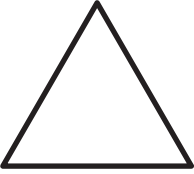


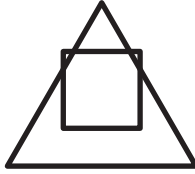









1) アトリックスの空欄に下の複合図形を配する課題。
2) このヨの通りは大きい○がある通りだのように説明。
3) 難しければ、「大きい○をせんぶ(下も)赤でなぞろう!」小
さい三角はせんぶ青でなぞろう!のように色つけをし、
分とヨコの色トを作り出す。





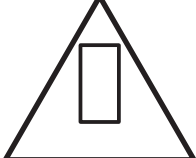
a) 複合図形の一方へ選択的注意を向ける操作=図と地
の弁別
b) 行と列の概念は非常に難解である。両者を統合するア
トリックスの配列原理はさらに難しい。
c) アトリックス形式になじむ。

特定用具: 不要
Date:



どこへはいれば
いいのかな。

				
-------------------------------------------------------------------------------------	-------------------------------------------------------------------------------------	--------------------------------------------------------------------------------------	---------------------------------------------------------------------------------------	---------------------------------------------------------------------------------------