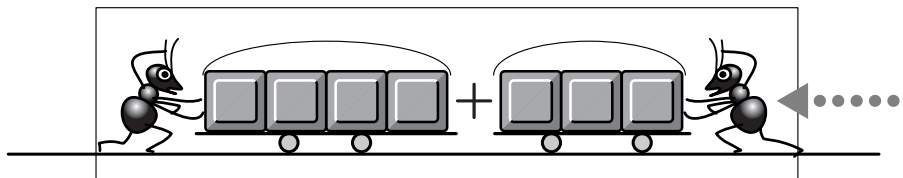
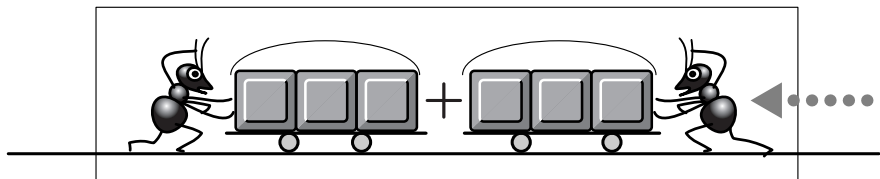
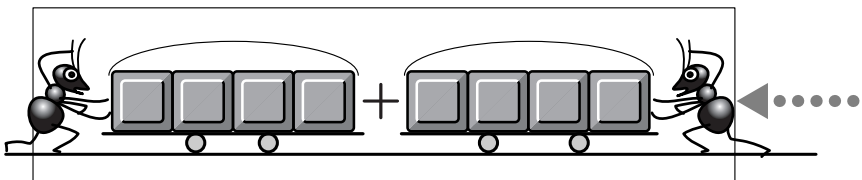
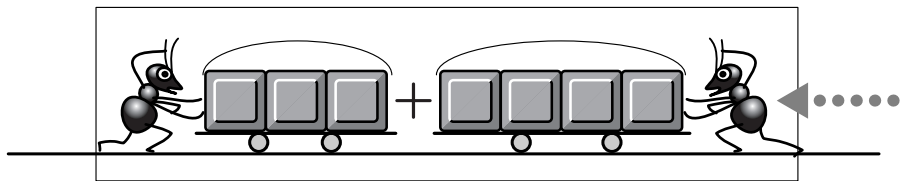


1) アリさんの絵と、適合するタイル加減図を線で結ぶ。  
2) ?の数ははいくつなのか、口頭で問答。

a) 静的なタイル図に動的なイメージを読み取る課題。  
文章題を扱う準備となる。

特定用具: 不要

Date:



せんで むすぼう。

