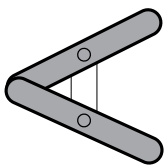


1) 必要なら不等号の説明をする。  
2) 左は点つき数字。不等号を貼り込む。  
3) 右は、数字の数だけ丸をぬり、不等号を貼り込む。

a) 1,2,3の数字から数のイメージを取り出し、多少の判断を  
不等号で表現する課題。



どっちが おおい?



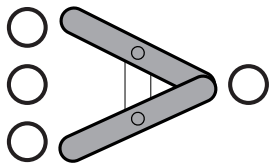
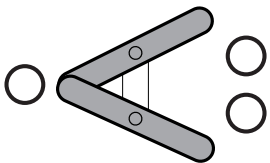
?



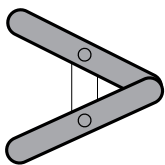
?



?



○をぬって かんがえよう。



?



?



?

