



●



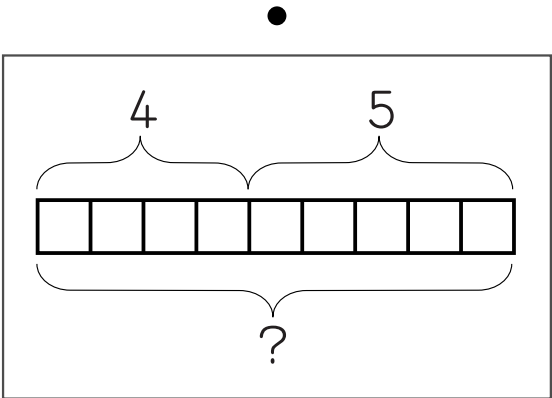
●



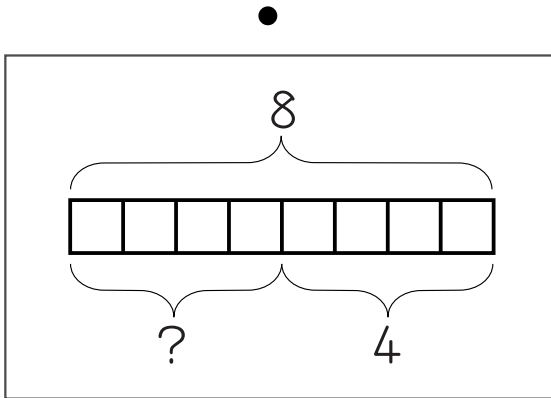
●



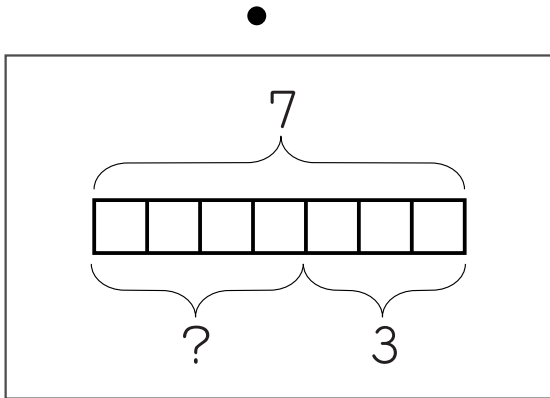
どれがどれだ？



●



●



●

1) 絵を説明させ、マッチするタイル図と線をつなぐ。
 2) 電球は「割れないで残っているのは」を主題に、「全部でいくつ」「割れたのはいくつ」を問ひ、引き算としてまとめる。りんごも同様。

a) 絵題の数的な要素をタイルの加減図に転換。
 b) 絵題は文題の先行形式。加減図は棒のソウエで。

特定用具：不要

Date: