



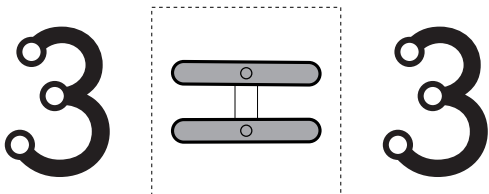
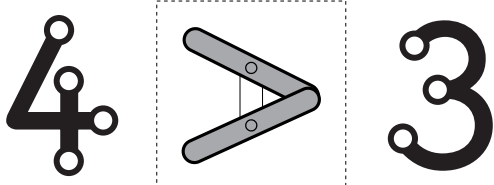
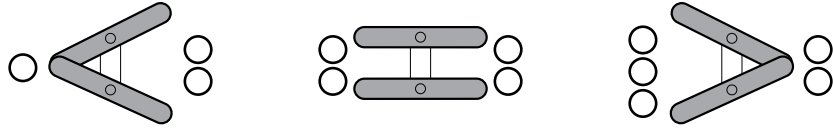


1 数字と数字を比べ、不等号・等号でむすぶ。  
 2 等号が了解できない場合は、上段の図で等号・不等号の仕組みを想起させる。記号の線を「V」に見立てて動くまから等・不等をイメージさせるとよい。  
 a) 数字という記号に不等号と等号を適用する課題。  
 b) 等号・不等号による表現形式になりむ記号体験。  
 c) 等号は不等号より理解が困難なことがある。



?に  
 どれを いれよう。

