

1) 問題文を自分で読ませる。  
2) 写真と写真の間で高さを比べても無意味なことに気が付かせる。上の各写真の中の2人は同じ高さの場に立っていることも必要があれば説明する。  
3) 正答: 左から35214





a) 推移律が連鎖している問題。問題の構図を図に置き換えて考える発想を持たせる。

Date: 

特定用具: 不要



おなじばしょにならんで  
しゃしんをとりました。



せの たかさの  
じゅんばんを かいてください。

