






1) 折りで折って、上段の図を提示し、へんな子はどれ  
カードの2つをめぐればよい、正答:A,D  
でもよく、ズボンもどちらでもいい。だから男の子とス  
3) ひっくり返してどれをめぐるか問う。女の子はどちら  
だ？ スカートをはいた男の子をスカートさせる。  
理の対偶。  
b) ウェイソンの4枚カード問題のバージョン。形式論  
a) 推論課題。

難しい場合は答を見せて、繰り返し考察と解とを往復  
もするとだんだん面白さが分かってくる。

Date /  
Note




おんなの こがズボンをはいても いいけど、  
おとこの こがスカートをはいたら へんだよね。  
へんな こは どれだ？




折り隠す


へんな こが いるか いないか、めくって しらべたい。




A



B



C



D

めくるのは 2まい だけと しよう。  
どれと どれを めくれば いいのかな？